



6. 450, 465, 405, 504, 605

以上哪个数目最小?

- A ) 450
- B) 465
- C) 405

7.  $325+105= ( \quad )$

- A) 425
- B) 430
- C) 410

8. 美玲把 38 颗糖果分给弟弟后, 还剩 150 颗糖果。请问美玲原有多少颗糖果?

- A) 188
- B) 138
- C) 112

9. 学校礼堂有 352 位男生, 258 位女生, 请问礼堂共有多少位学生?

- A) 510
- B) 600
- C) 610

10. 729, 299, 792, 192, 696

从以上数目中找出最大和最小数目的和。

- A) 964
- B) 974
- C) 984

**(B) 圈出正确的答案。6×1=6%**

1. 109 的十位近似值是 ( 100 , 110 ) 。
2. 109 的百位近似值是 ( 100 , 200 ) 。
3. 970 是 ( 973 , 975 ) 的十位近似值。
4. 114 的百位近似值是 ( 110 , 100 ) 。
5. 180 是 ( 175 , 185 ) 的十位近似值。
6. 870 的百位近似值是 ( 800 , 900 ) 。

**(C) 画线连一连。4×1=4%**

1.	991	●
2.	375	●
3.	110	●
4.	806	●

●	三百七十五
●	九百九十一
●	八百零六
●	一百一十

**(D) 圈出正确的答案。5×1=5%**

1. 369 比 396 ( 小 , 大 ) 。
2. 481 比 184 ( 小 , 大 ) 。
3. (311 , 611) 比 511 小。
4. 圈出较小的数目 ( 417 , 471 ) 。
5. 圈出较大的数目 ( 868 , 886 ) 。

(E) 对的画✓, 错的画×。5×1=5%

1.	$209+9=299$	
2.	$7+87+106=200$	
3.	$9+74+500=579$	
4.	$45+550=595$	
5.	$11+9+90=110$	

(F) 圈出正确的答案。5×1=5%

1.	$669+99=$	768
		778


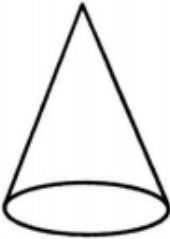
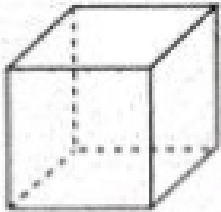

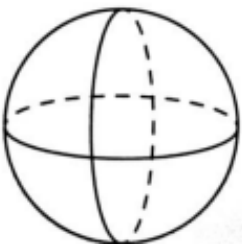
2.	$684+268=$	925
		952

3.	$714+174=$	888
		988

4.	$209+717=$	906
		926

5.	$7+109+863=$	989
		979

(G) 画线连一连。5×1=5%

1.		•	•	圆锥体
2.		•	•	圆柱体
3.		•	•	正方体
4.		•	•	球体
5.		•	•	长方体

出题：吴晋琳师

审查：吴伟盛师