

新山柏伶培华小学

第三学年数学评鉴（一）

试卷一

姓名： _____ （ ）

评分： _____

班级： 3 （ ）

日期：（ ） / 3/2017

家长签阅： _____

试卷（一）：这份试卷有四十道问题，所有的题目必须作答。

下列各题都有四项选择 A、B、C 和 D，其中一个答案是对的。试圈出正确的答案，并把答案涂黑在答案纸上。（40%）

1. 六千零八写出数字是

- | | | | |
|---|------|---|------|
| A | 6008 | B | 8600 |
| C | 8608 | D | 6080 |

2. 7 个千 + 3 个百 + 8 个一 =

- | | | | |
|---|------|---|------|
| A | 738 | B | 7388 |
| C | 7308 | D | 7038 |

3. 哪个数目比 9756 大?

- | | | | |
|---|------|---|------|
| A | 7956 | B | 9567 |
| C | 9657 | D | 9865 |

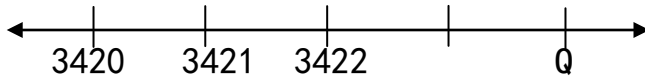
4. $4680 + 2429 =$

- | | | | |
|---|------|---|------|
| A | 6009 | B | 7009 |
| C | 7199 | D | 7109 |

5. 哪个数目中的 9 的数值是 900?

- | | | | |
|---|------|---|------|
| A | 4908 | B | 9305 |
| C | 4098 | D | 4195 |

6.



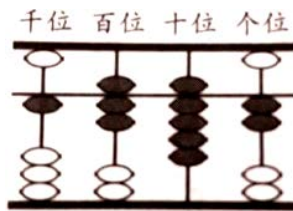
找出 Q 的千位近似值。

- | | | | |
|---|------|---|------|
| A | 3400 | B | 3000 |
| C | 3456 | D | 3424 |

7. 如果 $P = 5$ 、 $Q = 4$ 、 $R = 8$ 和 $S = 6$ ，
以下哪个数目的值最大？

- | | | | |
|---|------|---|------|
| A | RPQS | B | RSPQ |
| C | PSRQ | D | RQPS |

8.



珠算盘所显示的数目是多少？

- | | | | |
|---|------|---|------|
| A | 1804 | B | 1792 |
| C | 1900 | D | 1929 |

9. 计算 123、1485 与 1532 的和。

- | | | | |
|---|------|---|------|
| A | 3150 | B | 3140 |
| C | 3080 | D | 3040 |

10.

5325, 5327, 5329, _____

接下来的数目是？

- | | | | |
|---|------|---|------|
| A | 5333 | B | 5330 |
| C | 5331 | D | 5332 |

11. 以下哪项是依顺序排列的数目？

- A 2542, 2442, 2342, 2642
- B 2642, 2542, 2442, 2342
- C 2442, 2542, 2642, 2342
- D 2342, 2442, 2542, 2642

12. 以下哪个是 2385 和 2387 之间的数目？

- A 2383
- B 2384
- C 2386
- D 2388

13. $7653 =$

- A $7000 + 60 + 5 + 3$
- B $7000 + 600 + 50 + 3$
- C $700 + 600 + 50 + 3$
- D $7000 + 6000 + 50 + 3$

14. 下图显示一条数目轴。



找出 Y 值。

- A 3662
- B 3663
- C 3664
- D 3665

15. 下面显示一张数目卡。

8365

下列哪项有关卡上数目的说明是正确的？

- A 它读成八千三百六十五
- B 它的十位近似值是 8360
- C 它的值比 8165 小
- D 3 在这个数目中的数值是 30

16. 哪项算式的答案等于 6014?

A $5030 + 972$

B $4856 + 1159$

C $2801 + 3221$

D $2093 + 3921$

17. 哪个算式的和数是 625?

A $354 + 258$

B $279 + 346$

C $195 + 152 + 266$

D $520 + 125$

18. 哪项算式是正确的?

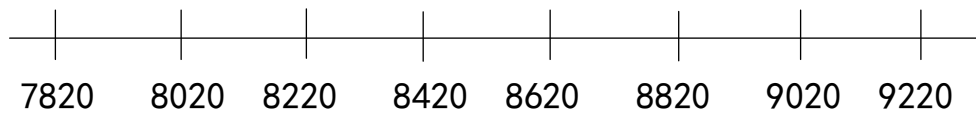
A $1061 + 1234 = 2395$

B $5304 + 3282 = 8586$

C $4517 + 2032 = 6359$

D $6555 + 1321 = 6787$

19. 下面显示一条数目线。



哪项说明是正确的?

A 9020 比 9220 大

B 8020 比 7820 小

C 8220 之前的数目是 8300

D 8420 和 8620 之间的数目是 8550

20. 3060, 3600, 3640, 3006

上面显示 4 个数目。计算最大和最小的数目的和数是多少。

A 7240

B 6066

C 6646

D 6600

21. $3465 + 4172 + 1081 =$

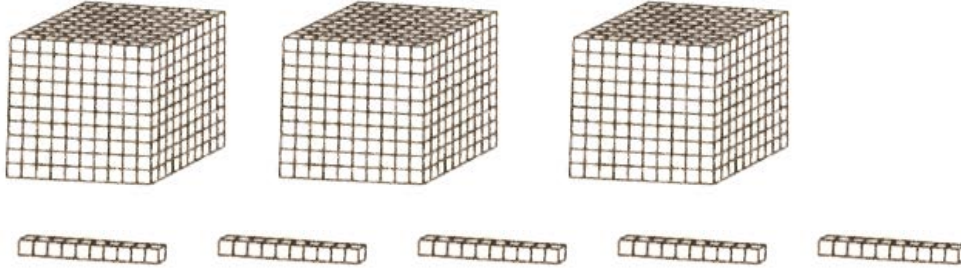
A 8197

B 8719

C 8718

D 9817

22. 下图显示一组积木。



写出积木所显示的数目。

A 三百五十

B 三千零五

C 三千零五十

D 三千五百

23. 哪项的千位近似值不是 6000?

A 5400

B 6200

C 5500

D 6300

24. 下表显示 P 数目中每个数字的数位。

数字	1	3	7	9
数位	十位	千位	个位	百位

写出 P 数目。

A 7913

B 3917

C 7193

D 1379

25. $3451 + 124 =$

A $3000 + 500 + 70 + 5$

B $4000 + 400 + 70 + 5$

C $4000 + 600 + 50 + 5$

D $4000 + 600 + 90 + 1$

26. 哪个算式的答案是 142?

A $251 - 126$

B $762 - 638$

C $540 - 276 - 122$

D $862 - 620$

27. $2100 + 3524 + 1145 =$

A 6869

B 6759

C 6769

D 6659

28. 下表显示三款饮料一个月的销量。

饮料	销量
L	2810
M	2129
N	2035
总计	6974

店员错误把 L 饮料的销量从 2870 写成了 2810。计算正确的总销量。

A 6914

B 7034

C 7044

D 9844

29. 从 4870 开始十个十个顺序地数，接下来的数目是什么？

A 4920

B 4900

C 4890

D 4880

30. 下图显示几个数字。

8262	2628	8622
6282	6822	2826

将以上的数目逆序排列。

- A 8622, 8262, 6282, 6822, 2826, 2628
B 8622, 6822, 8262, 6282, 2826, 2628
C 2628, 2826, 6282, 6822, 8262, 8622
D 8622, 8262, 6822, 6282, 2826, 2628

31.

187	287		487
-----	-----	--	-----

空格里应该填上什么数目？

- A 378 B 387
C 389 D 398

32. 以下哪个是五个五个逆序地数？

- A 2419, 2417, 2415, 2413
B 1204, 1199, 1194, 1189
C 4562, 4552, 4542, 4532
D 5388, 5382, 5376, 5370

33. 李老师准备了 1256 份儿童节恩物，张老师准备的恩物比李老师少 18 份。张老师准备了多少份儿童节恩物？

- A 1238 B 1274
C 1494 D 1594

34. 莉莉写了一篇长 2685 个字的作文，而国明写了一篇长 4240 个字的作文。他们的作文共有多少个字？

- A 7825 B 7885
C 8925 D 6925

35. 益民小学今天出席的学生有 6514 个，缺席的学生有 35 个。益民小学共有多少学生？
- A 6449 B 6479
C 6549 D 9749
36. 羽毛球馆里有 5605 个女性观众。男性观众比女性观众多 2940 个。男性观众共有多少？
- A 2665 B 8545
C 2675 D 8655
37. 大卫送了 6436 枚邮票给朋友后，还剩下 2194 枚邮票。大卫原有多少枚邮票？
- A 8530 B 7630
C 8630 D 8520
38. 志华派了 3764 张传单。莉铃派的传单比志华多 158 张。他们两人共派了多少张传单？
- A 7686 B 7688
C 7886 D 7888
39. 日鲜水果店有 900 个水果，卖出 500 个水果。日鲜水果还剩多少个水果？
- A 400 B 300
C 450 D 350
40. 康康有 742 粒珠子，哥哥比康康多了 204 粒珠子。哥哥有多少粒珠子？
- A 946 B 538
C 408 D 988

出题：何慧敏师
审题：郑晓慧师